





„E“ - pojmenujte erby



erb č.1	erb č. 2	erb č. 3	erb č. 4
---------------	----------------	----------------	----------------



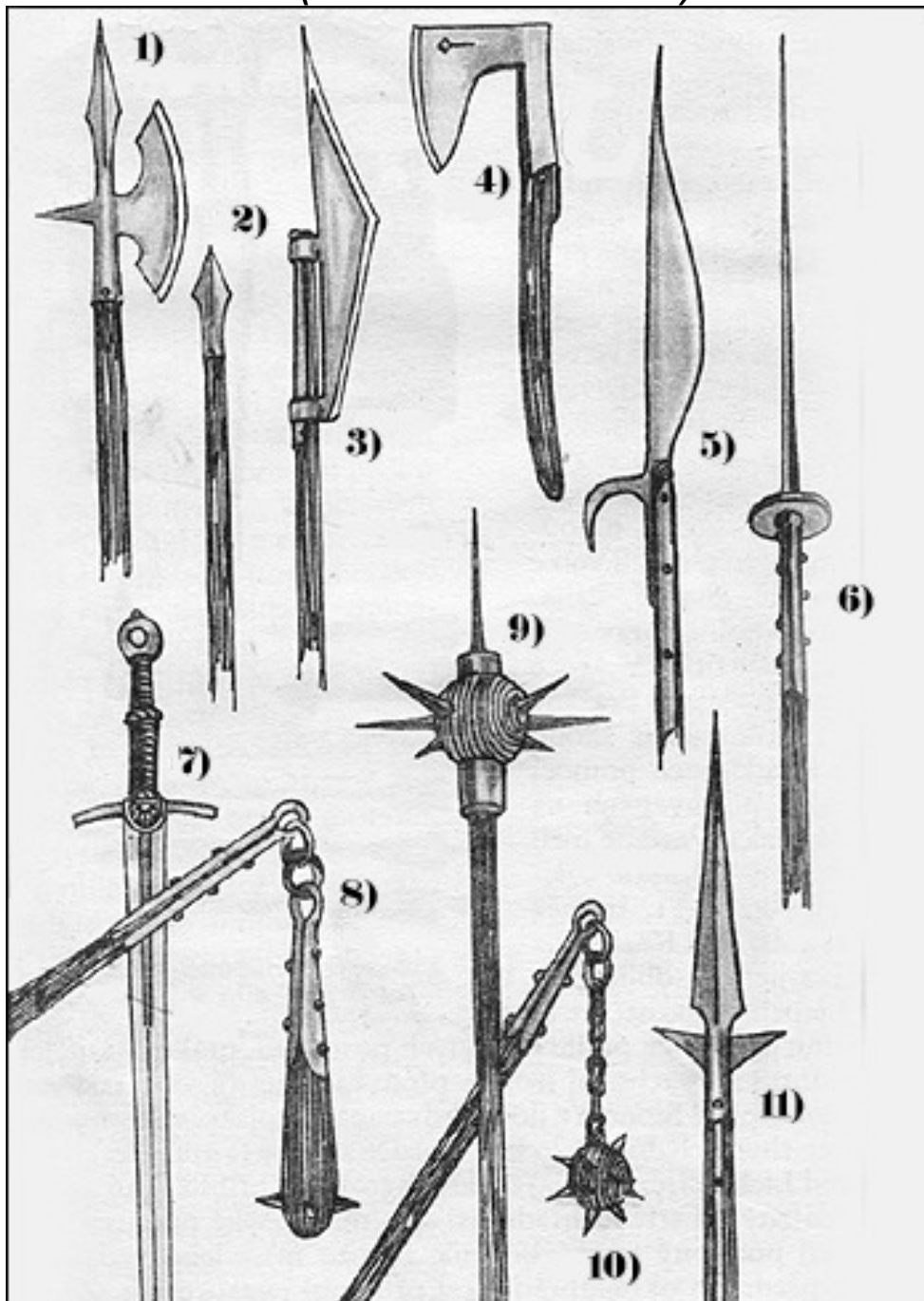
erb č. 5.....	erb č. 6 -.....	erb č. 7.....	erb č. 8
---------------	-----------------	---------------	----------------



erb č. 9	erb č. 10.....
----------------	----------------

„F“ - pojmenujte zbraně

(čísla 1 + 3 + 8 + 9 + 10)



č. 1

č. 3

č. 8

č. 9

č.10

„G“ - pojmenujte obrázky



1. obrázek



2. obrázek



3. obrázek



4. obrázek



5. obrázek



6. obrázek

poznámka : správná odpověď = 1 bod (maximální počet bodů - 49)